

Signa Alvraag



KB 1

Wanneer een boot boordlichten heeft, welke kleur zit dan aan stuurboord?

Antwoord: Groen.

KB 2

Een schip heeft 2 zwarte kegels met de punten naar elkaar toe opgehangen, wat is dit voor een schip?

Antwoord: Een vissersschip.

KB 3

Een groot schip ligt voor anker wat voor verlichting moet deze 's nachts voeren?

Antwoord: 2 witte rondom schijnende toplichten waarvan de voorste hoger staat dan de achterste.



1 a

Signa Alvraag



KB 1

Wanneer een boot boordlichten heeft, welke kleur zit dan aan bakboord?

Antwoord: Rood.

KB 2

Welke soort verkeersborden zijn er op het water te vinden?

Antwoord: Verbodtekens, gebodtekens, beperkingstekens, aanbevelingstekens, aanwijzingstekens.

KB 3

Wat is het betekenis van dit blauwe bord met een wit flikker licht?

Antwoord: Passeer dit schip aan de zijde van het bord. Dit is meestal de andere zijde dan gebruikelijk is om te passeren.



1 b



KB 1

Als een zeilschip een zwarte kegel ondersteboven heeft ophangen, wat probeert dit schip dan aan te geven?

Antwoord: Dat het schip met behulp van het zeil en de motor wordt voortbewogen.

KB 2

Bij welke soort verkeersborden moet je altijd doen wat wordt aangegeven?

Antwoord: Verbodtekens en gebodtekens.

KB 3

Als een schip 's nachts aan de wal vastligt, moet deze dan verlichting voeren, zo ja waar?

Antwoord: Ja aan de zijde van het water. De verlichting gelijk als wanneer het voor anker ligt.



2 a



KB 1

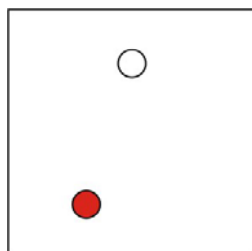
Als een zeilschip een zwarte bol heeft ophangen, wat probeert dit schip dan aan te geven?

Antwoord: Dat het schip voor anker ligt.

KB 2

Bij welke soort verkeersborden hoeft je niet iets te doen, maar mag je wel doen wat ze aangeven?

Antwoord: Aanbevelingstekens en aanwijzingstekens.



KB 3

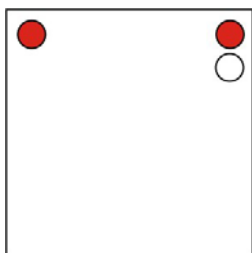
Wat kun je zeggen over dit schip en welke kant vaart het op?

Antwoord: Dit is een motorschip of een zeilschip dat op motor wordt voortbewogen groter dan 7 meter. Het vaart richting bakboord.



2 b

Signaalvraag



KB 1

Als een groot schip een gele bol heeft ophangen, wat probeert dit schip dan aan te geven?

Antwoord: Dat het schip wordt gesleept.

KB 2

Wat geeft dit schip aan?

Antwoord: Links verboden te passeren, rechts passeren toegestaan zonder hinderlijke vaarbewegingen te maken.

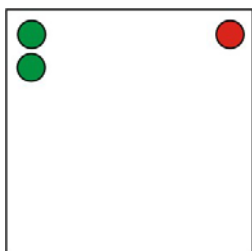
KB 3

Op het water zie je een schip dat naast de gebruikelijke boordlichten, toplicht en heklicht ook nog een blauw flikkerlicht voert. Wat kun je zeggen over dit schip?

Antwoord: Dit is een schip van een toezichthoudende instantie zoals: brandweer, politie, douane.

3 a

Signaalvraag



KB 1

Als een schip een blauwe kegel ondersteboven heeft ophangen, wat probeert dit schip dan aan te geven?

Antwoord: Dat het schip gevaarlijke stoffen vervoert en dat je dus afstand moet houden.

KB 2

Wat geeft dit schip aan?

Antwoord: Links vrij om voorbij te varen, recht passeren verboden.

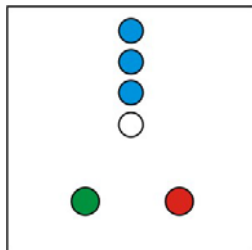
KB 3

Welk schip mag zijn verlichting verenigd in 1 lantaarn voeren?

Antwoord: een klein zeilschip groter dan 7 meter.

3 b

Signaelvraag



SAIL MASTER
PRODUCTIONS©

KB 1

Als een schip een gele ruit heeft ophangen, wat probeert dit schip dan aan te geven?

Antwoord: Dat het een passagiersschip is.

KB 2

Over hoeveel streken is een rondom schijnend toplicht te zien?

Antwoord: 32 streken.

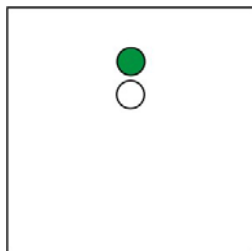
KB 3

Wat geven de blauwe lichten in het plaatje aan en wat doe je in ieder geval niet?

Antwoord: Het schip vervoert gevaarlijke stoffen, je blijft op minimaal 150 meter afstand van het schip.

4 a

Signaelvraag



SAIL MASTER
PRODUCTIONS©

KB 1

Als een schip aan één zijde 2 groene ruiten onder elkaar heeft ophangen, wat probeert dit schip dan aan te geven?

Antwoord: Dat deze zijde vrij is om langs te varen.

KB 2

Over hoeveel streken is een boordlicht te zien?

Antwoord: 10 streken.

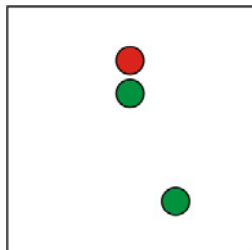
KB 3

Wat voor een schip is dit en waar vaart het naar toe?

Antwoord: Dit is een niet-vrijvarende veerpont, de vaarrichting is niet aan te geven.

4 b

Signaalvraag



KB 1

Als een schip aan één zijde 1 rood rechthoekig bord heeft ophangen, wat probeert dit schip dan aan te geven?

Antwoord: Dat deze zijde verboden is om langs te varen.

KB 2

Over hoeveel streken is een toplicht te zien?

Antwoord: 20 streken.

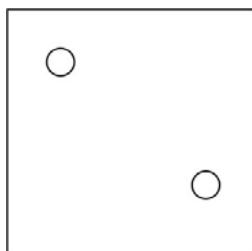
KB 3

Wat voor een schip is dit en waar vaart het naar toe?

Antwoord: dit is een groot zeilschip dat naar stuurboord vaart.

5a

Signaalvraag



KB 1

Als een schip aan één zijde 1 rood-wit (rood boven wit) rechthoekig bord heeft ophangen, wat probeert dit schip dan aan te geven?

Antwoord: Dat deze zijde vrij is om langs te varen, maar dat hinderlijke vaarbewegingen verboden zijn.

KB 2

Over hoeveel streken is een heklicht te zien?

Antwoord: 12 streken.

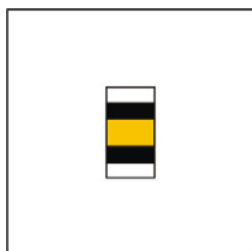
KB 3

Op het water zie je de volgende verlichting, wat voor schip is het en wat geeft het aan?

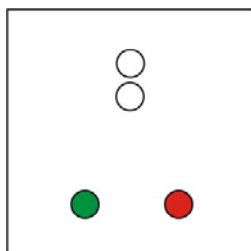
Antwoord: Dit is een groot schip dat voor anker ligt.

5b

Signaalvraag



Figuur 1



Figuur 2



KB 1

Als een schip deze cilinder (figuur 1) heeft ophangen, wat probeert dit schip aan te geven?

Antwoord: Dat dit schip een ander schip sleept.

KB 2

Over hoeveel graden is een toplicht te zien?

Antwoord: 225 graden.

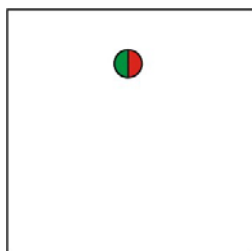
KB 3

Op een tegengestelde koers zie je een schip met de verlichting zoals in figuur 2. Wat voor soort schip kan dit zijn? (er zijn 2 mogelijkheden)

Antwoord: Een sleepboot die een groot schip sleept of een motorschip groter dan 110 meter.

6a

Signaalvraag



KB 1

Moet je als je een verkeersbord tegenkomt altijd doen wat het bord je aangeeft?

Antwoord: Nee, niet alle verkeersborden verplichten je om iets te doen/niet te doen.

KB 2

Over hoeveel graden is een boordlicht te zien?

Antwoord: 112 ½ graden.

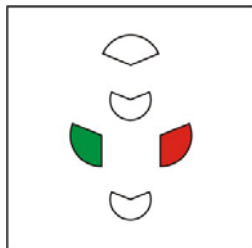
KB 3

Wat voor een schip zie je hier?

Antwoord: Een klein zeilschip groter dan 7 meter.

6b

Signa Alvraag



KB 1

Hoe lang duurt ongeveer een geluidsein als dit een korte stoot is ?

Antwoord: 1 seconde.

KB 2

Over hoeveel graden is een heklicht te zien?

Antwoord: 135 graden.

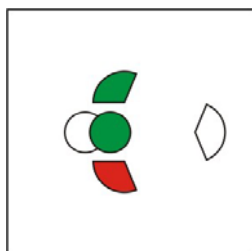
KB 3

Wat voor een schip zie je hier van bovenaf met z'n verlichting?

Antwoord: Een motorschip groter dan 110 meter.

7 a

Signa Alvraag



KB 1

Hoe lang duurt ongeveer een geluidsein als dit een zeer korte stoot is?

Antwoord: ¼ seconde. (kwart seconde)

KB 2

Wat voor kleur(en) kan een heklicht hebben?

Antwoord: Geel en wit.

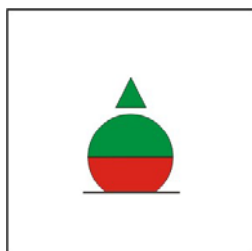
KB 3

Wat voor een schip zie je hier van bovenaf met z'n verlichting?

Antwoord: Vrijvarende veerpont.

7 b

Signaelvraag



KB 1

Hoe lang duurt ongeveer een geluidsein als dit een lange stoot is?

Antwoord: 4 seconden.

KB 2

Op welke koersen kun je het groene boordlicht zien?

Antwoord: Tegengestelde en kruisende koers.

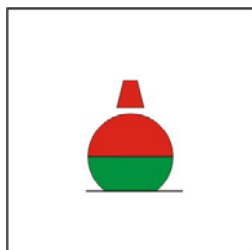
KB 3

Wat zegt deze scheidingmarkering over de naderende kruising?

Antwoord: Vanaf bakboord komt een nevenvaarwater op het hoofdvaarwater uit.

8a

Signaelvraag



KB 1

Je ziet op het water alleen het groene licht van een schip, welke zijde van het schip zie je?

Antwoord: Stuurboordzijde.

KB 2

Op welke koers(en) kun je een heklicht van een schip zien?

Antwoord: Oplopende koers.

KB 3

Wat zegt deze scheidingmarkering over de naderende kruising?

Antwoord: Vanaf stuurboord komt een nevenvaarwater op het hoofdvaarwater uit.

8b

Signaelvraag



KB 1

Je ziet op het water alleen het rode licht van een schip, welke zijde van het schip zie je?

Antwoord: Bakboordzijde.

KB 2

Op welke koers(en) kun je een rondom schijnend toplicht van een schip zien?

Antwoord: Beide kruisende koersen, tegen gestelde koers en oplopende koers. (alle koersen dus)

KB 3

Wat zegt deze scheidingmarkering over de naderende kruising?

Antwoord: Je nadert een gelijkwaardig kruispunt.

9a

Signaelvraag



KB 1

Je ziet op het water 2 lichten dicht naast elkaar, links groen, rechts rood. Op welke koers nader je deze boot?

Antwoord: Tegengestelde koers.

KB 2

Op welke koers(en) kun je een toplicht van een schip zien?

Antwoord: Beide kruisende koersen en tegengestelde koers.

KB 3

Een sleper die een klein schip sleept moet welke verlichting 's nachts voeren?

Antwoord: 1 wit toplicht, boordlichten en een wit heklicht. Of rondom schijnend toplicht en boordlichten.

9b



KB 1

Wanneer moet je verlichting voeren op het water?

Antwoord: 's Nachts en overdag bij slecht zicht.

KB 2

Welke soort scheepsverlichting kan je op een boot vinden? Noem er drie.

Antwoord: Boordverlichting (groen & rood), toplicht, rondom schijnend toplicht, heklicht.

KB 3

Een sleper die een groot schip sleept moet welke verlichting 's nachts voeren?

Antwoord: 2 witte toplichten, boordlichten en een geel heklicht.



10 a



KB 1

Welke schepen moeten 's nachts hun scheepsverlichting aan hebben?

Antwoord: Alle schepen op het water.

KB 2

Wat is het attentiessein?

Antwoord: 1 lange stoot.

KB 3

Wat voor verlichting moet een groot zeilschip 's nachts voeren?

Antwoord: Boordlichten, wit heklicht en 2 rondom schijnende toplichten rood boven groen.



10 b



KB 1

Wat moet een klein schip overdag tonen wanneer het wordt gesleept?

Antwoord: Niets, alleen grote schepen moeten een dagteken tonen als ze worden gesleept.

KB 2

Welk geluidsein moet je geven wanneer je wilt dat de brug/sluis wordt bediend?

Antwoord: Lang kort lang.

KB 3

Je ziet op het water een schip met boordlichten, toplicht en 2 gele flinkerende lichten. Wat voor schip is dit?

Antwoord: Snel motorschip.



11 a



KB 1

Wat is de betekenis van dit verkeersbord?

Antwoord: Verboden sneller te varen dan staat aangegeven (niet harder dan 8 km per uur).

KB 2

Wat betekent 1 korte stoot?

Antwoord: Ik ga naar stuurboord.

KB 3

Uit hoeveel soorten betoning bestaat kardinale betoning?

Antwoord: 4 verschillende noord, oost, zuid en west.



11 b

Signaalvraag



KB 1

Wat is de betekenis van dit verkeersbord?

Antwoord: Op deze plek ligt een pijpleiding op de bodem.

KB 2

Wat betekent 2 korte stoten?

Antwoord: Ik ga naar bakboord.

KB 3

Wat geeft kardinale betonning aan?

Antwoord: Obstakels en ondieptes in het water.

12 a

Signaalvraag



KB 1

Wat is de betekenis van dit verkeersbord?

Antwoord: Op deze plek ligt een kabel op de bodem.

KB 2

Hoeveel meter afstand moet je van een schip houden die 2 blauwe kegels ondersteboven heeft hangen?

Antwoord: 50 meter.

KB 3

Je vaart richting een haven, welke kleur betonning heb je aan stuurboord?

Antwoord: Groen.

12 b

Signa Alvraag



KB 1

Wat is de betekenis van dit verkeersbord?

Antwoord: Rondom deze plek zijn duikers in het water.

KB 2

Op het water zie je 's nachts een boot alleen op het water varen. Je ziet één wit rondom schijnend toplicht, wat voor boot kan dit zijn? Noem er twee.

Antwoord: Een door spierkracht voortbewogen schip < 7 meter. Een open motorboot < 7 meter dat niet harder kan dan 13 km per uur. Een zeilschip < 7 meter.

KB 3

Je vaart vanuit een haven richting de zee, welke kleur betoning heb je aan stuurboord?

Antwoord: Rood.

13 a

Signa Alvraag



KB 1

Wat is de betekenis van dit verkeersbord?

Antwoord: Beperkte doorvaarthoogte. Hier is de hoogte beperkt tot 6 meter.

KB 2

Wat moet een klein schip dat gesleept wordt 's nachts aan verlichting voeren?

Antwoord: 1 wit rondom schijnend toplicht.

KB 3

Welke vorm heeft de groene betoning die de hoofdvaargeul aangeeft?

Antwoord: Kegel met de punt naar boven.

13 b

Signa Alvraag



KB 1

Wat is de betekenis van dit verkeersbord?

Antwoord: Beperkte breedte van de doorvaart. Hier is de breedte 12 meter.

KB 2

Je ziet een boot op het water één wit rondom schijnend toplicht voeren, af en toe zie je een extra wit licht knipperen. Wat kun je zeggen over het type schip en de lengte er van?

Antwoord: Dit is een zeilboot korter dan 7 meter.

KB 3

Welke vorm heeft de rode betonning die de hoofdvaargeul aangeeft?

Antwoord: Cilinder of kegel met punt naar beneden.

14 a

Signa Alvraag



KB 1

Wat is de betekenis van dit verkeersbord?

Antwoord: Beperkte doorvaart diepte. Hier is de diepte 220 centimeter of 2,2 meter.

KB 2

Wat kun je zeggen over boten korter dan 7 meter wat zij 's nachts minimaal aan verlichting moeten voeren?

Antwoord: 1 wit rondom schijnend toplicht.

KB 3

Hoe wordt de betonning genoemd die de hoofdvaargeul aangeeft?

Antwoord: Laterale betonning.

14 b

Signa Alvraag



KB 1

Wat is de betekenis van dit verkeersbord?

Antwoord: Het vaarwater ligt op 12 meter afstand van de oever.

KB 2

Schepen groter dan 7 meter hebben in ieder geval de volgende verlichting?

Antwoord: Boordlichten en een heklicht.


KB 3

Een reeks stoten bestaat minimaal uit hoeveel stoten?

Antwoord: Minimaal 6 stoten.

15 a

Signa Alvraag



KB 1

Wat is de betekenis van dit verkeersbord?

Antwoord: Aanbeveling om naar rechts te gaan.

KB 2

Je ziet een schip met een rondom schijnend wit toplicht. Op welke koers nader je deze boot?

Antwoord: Is niet te zeggen kan alle koersen zijn.

KB 3

Welk geluidsein geef je wanneer je een mistsein wilt geven?

Antwoord: Elk minuut 1 lange stoot.

15 b

Signa Alvraag



Figuur 1



Figuur 2

SAIL MASTER
PRODUCTIONS©

KB 1

Wat is de betekenis van dit verkeersbord (figuur 1)?

Antwoord: Verboden in te varen met uitzondering van vaartuigen die niet door een motor worden voortbewogen en geen motor aanboord hebben.

KB 2

Wat is de betekenis van dit verkeersbord (figuur 2)?

Antwoord: Je volgt een nevenvaarwater en komt uit op een hoofdvaarwater.

KB 3

Welke geluidseinen mogen kleine schepen ook geven? Noem er 3 van de 5.

Antwoord: Mistsein, ik ga naar stuurboord, ik ga naar bakboord, ik sla achteruit, er dreigt gevaar voor een aanvaring.

16a

Signa Alvraag



Figuur 1



Figuur 2

SAIL MASTER
PRODUCTIONS©

KB 1

Wat is de betekenis van dit verkeersbord (figuur 1)?

Antwoord: Verboden te keren.

KB 2

Wat is de betekenis van dit verkeersbord (figuur 2)?

Antwoord: Goed opletten regeling scheepvaart.

KB 3

Wat betekent het geluidsein lang-lang-lang-kort-kort?


Antwoord: Ik steek het vaarwater over en ga daarna bakboord uit.

16b

Signaalsvraag



Figuur 1



Figuur 2

SAIL MASTER
PRODUCTIONS©

KB 1

Wat is de betekenis van dit verkeersbord (figuur 1)?

Antwoord: Verboden te ankeren.

KB 2

Wat is de betekenis van dit verkeersbord (figuur 2)?

Antwoord: Verplichting een geluidsein te geven. In dit geval één lange stoot.

KB 3

Als een schip aan stuurboord voorbij wilt lopen wat voor geluidsein moet deze dan geven?

Antwoord: Lang lang kort.

17 a

Signaalsvraag



Figuur 1



Figuur 2

SAIL MASTER
PRODUCTIONS©

KB 1

Wat is de betekenis van dit verkeersbord (figuur 1)?

Antwoord: Verboden voor pleziervaart.

KB 2

Wat is de betekenis van dit verkeersbord (figuur 2)?

Antwoord: Verboden hinderlijke vaarbewegingen te maken.

KB 3

Als een schip over bakboord wil keren wat voor geluidsein moet deze dan geven?

Antwoord: Lang kort kort.

17 b

Signaelvraag



Figuur 1



Figuur 2



KB 1

Wat is de betekenis van dit verkeersbord (figuur 1)?

Antwoord: Verboden voor zeilboten.

KB 2

Wat is de betekenis van dit verkeersbord (figuur 2)?

Antwoord: Je volgt een nevenvaarwater en komt uit op een hoofdvaarwater.

KB 3

Waar bestaat het noodsein uit?

Antwoord: Een reeks lange stoten.

18a

Signaelvraag



Figuur 1



Figuur 2



KB 1

Wat is de betekenis van dit verkeersbord (figuur 1)?

Antwoord: Verboden stil te liggen aan de kant.

KB 2

Wat is de betekenis van dit verkeersbord (figuur 2)?

Antwoord: Je volgt het hoofdvaarwater, het water wat hier op aansluit is nevenvaarwater.

KB 3

Wat voor geluidsein geeft een schip als deze wilt dat iedereen uit de buurt blijft?

Antwoord: Kort lang kort lang kort lang enz. voor minimaal 15 minuten.

18b

Signa Alvraag



Figuur 1



Figuur 2



KB 1

Wat is de betekenis van dit verkeersbord (figuur 1)?

Antwoord: *Verboden voor motorschepen.*

KB 2

Wat is de betekenis van dit verkeersbord (figuur 2)?

Antwoord: *verboden ligplaats te nemen (ankeren en afmeren) binnen 20 meter.*

KB 3

Wat geeft een schip aan als deze een reeks korte stoten geeft?


Antwoord: *Er dreigt gevaar voor een aanvaring.*

19 a

Signa Alvraag



Figuur 1



Figuur 2



KB 1

Wat is de betekenis van dit verkeersbord (figuur 1)?

Antwoord: *Verboden voor boten die door spierkracht worden voortbewogen.*

KB 2

Wat is de betekenis van dit verkeersbord (figuur 2)?

Antwoord: *Verplichting dit het geven van een geluidsein.*

KB 3

Wat geeft een schip aan als deze 4 korte stoten geeft?

Antwoord: *Ik kan niet manoeuvreren.*

19 b

Signaalvraag



Figuur 1



Figuur 2



KB 1

Wat is de betekenis van dit verkeersbord (figuur 1)?

Antwoord: Verboden te meren.

KB 2

Wat is de betekenis van dit verkeersbord (figuur 2)?

Antwoord: Verplichting om goed op te letten.

KB 3

Wat geeft een schip aan als deze 3 korte stoten geeft?

Antwoord: Ik sla achteruit.

20 a

Signaalvraag



Figuur 1



Figuur 2



KB 1

Wat is de betekenis van dit verkeersbord (figuur 1)?

Antwoord: Verboden voor snelle motorboten.

KB 2

Wat is de betekenis van dit verkeersbord (figuur 2)?

Antwoord: Verplichting om onder bepaalde omstandigheden te stoppen.

KB 3

Welke seinen moeten kleine schepen altijd kunnen geven?

Antwoord: Attentiesein, noodsein, ik kan niet manoeuvreren.

20 b